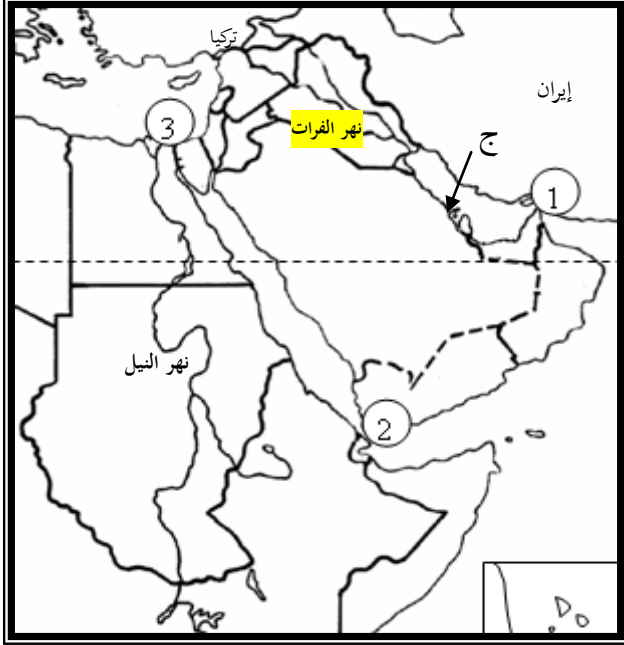


المجال الأول: تحديد مواقع واتجاهات (خمس علامات)

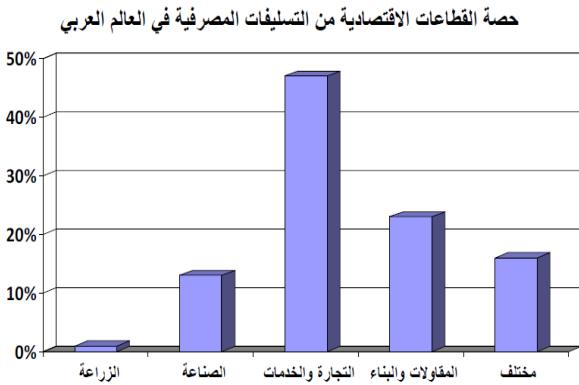


المستند رقم 1

**1 لاحظ المستند (1)، وأكتب على ورقة الإجابة:**

- أ. أسماء الدول العربية التي يجري فيها نهر النيل بالتدرج من المنبع إلى المصب. (1)
- ب. اسم دولة عربية أسيوية يمر بها مدار السرطان وتطل على البحر الأحمر. (1/2)
- ج. اسم دولة عربية أفريقية تُشرف على مضيق باب المندب. (1/2)
- د. اسم الدولة العربية الجزرية المشار إليها بالحرف (ج) (1/2)
- هـ. اسم الدولة العربية الأسيوية التي تقع بكاملها جنوب مدار السرطان، والدولة العربية التي يقع أجزاء منها في أقصى الشرق العربي. (1)
- و. أسماء المسطحات المائية التي تُحيط بشبه الجزيرة العربية، وحدد الجهة التي تقع فيها هذه المسطحات بالنسبة إلى شبه الجزيرة العربية (1 1/2)

المجال الثاني: تحليل مستندات (ثمانى علامات)



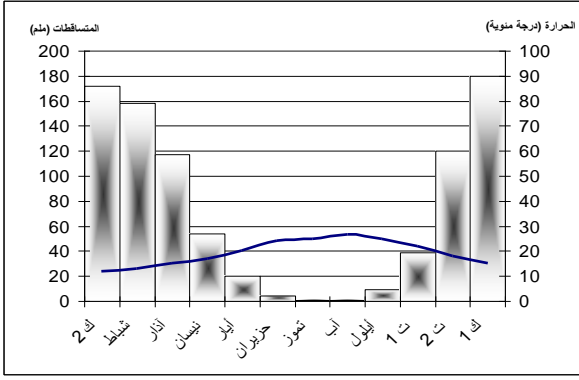
المستند رقم (2)

**2 حدّد طبيعة المستند رقم (3) وموضوعه. (3/4)**

**3**

من خلال المستند رقم (2):

- أ. حدّد القطاع الذي يستأثر بالقسم الأكبر من التسليفات المصرفية. (1/2)
- ب. استنتج واقع القطاع الثالثي في لبنان. (1/2)
- ج. استنتج مشكلة واحدة مشتركة تواجه القطاعين الزراعي والصناعي في لبنان. (1/2)



المستند رقم (3): الحرارة والأمطار في بيروت

تنمية القطاع الزراعي تعني أولاً حماية العنصر الأساسي للانتاج وهو الارض، وحماية التربة من الجرف وحماية الارض الزراعية من البناء وشق الطرق وما يتبعها من محلات تجارية وغيرها حول الطرق. وكذلك التحريج هو من ضروريات التنمية الزراعية لأنه يحمي التربة ويحفظ المياه. وادخال التقنيات الحديثة كاعتماد الزراعة المحمية التي تؤدي إلى زيادة الانتاج، علماً أن هذه التقنية تعتمد على المبادرة الفردية مع ضالة الامكانيات المادية للمزارعين وعدم وجود مساعدة من قبل الدولة.

المصدر : د. بطرس لبكي الانسان و البيئة في لبنان (بتصرف)

المستند رقم (4)

4

من خلال المستند رقم (3)

- أ. حدّد طبيعة المستند واذكر وحدتي القياس المُعتمَدَتَيْن (1)
- ب. حدّد الشهر الذي يتلقّى أكبر كمية من المتساقطات. (1/2)
- ج. احتسب المدى الحراري السنوي في لبنان. (3/4)
- د. حدّد فترة الجفاف في لبنان. (1/2)
- هـ. حدّد الاقليم المناخي الذي ينتمي إليه هذا المستند. (1/2)

5

من خلال المستند رقم (4):

- أ. استخلص المشاكل التي تتعرض لها الزراعة. (1/2)
- ب. حدّد أهم الحلول التي يقترحها الكاتب. (1/2)

6

بيّن فائدة تعود على المدن من خلال تنمية الزراعة في

- الارياض. (1/2)

7

أوضح خطوة قامت بها الدولة وأخرى قام بها القطاع الخاص

- لتطوير الزراعة في لبنان. (1)

### المجال الثالث : كتابة نص جغرافي (ست علامات)

8

انطلاقاً من المستند المرفق ومعلوماتك، اكتب نصاً (12 - 15 سطراً)

بعنوان "السياحة في لبنان" مبيناً فيه:

- أ. المقومات (الطبيعية والبشرية) التي ساعدت على ازدهار السياحة فيه. (يكفي أربعة مقومات) (2)
- ب. اثنين من أشكال (أنواع) السياحة المزدهرة في لبنان. (1)
- ج. دورين للقطاع العام في تطوير النشاط السياحي. (1)
- د. اثنين من المشاكل التي تعاني منها السياحة في لبنان. (1)
- هـ. دور السياحة في تنشيط القطاعات الإنتاجية في لبنان (يكفي فكرتين). (1)

لبنان بلد سياحيّ من الطراز الأوّل ولديه من المقومات السياحية المتميزة ما يؤهله ليكون في مقدمة مقاصد الجذب السياحي في العالم العربي، وبالرغم من ذلك فإن حصة وزارة السياحة من موازنة الدولة تبلغ 0.36 % فقط مع ما يعانيه هذا القطاع من مشاكل عديدة، فقد نجمت عن الاعتداءات الإسرائيلية خسائر عديدة بالقطاع السياحي، كما أن هناك مشكلات عديدة مطروحة على مستوى البنية التحتية. ما يستدعي العمل على تطوير هذا القطاع وإعطائه الاهتمام اللازم.

المستند رقم (5)

رقم السؤال	الجزء	الإجابة المتوقعة	العلامة	ملاحظات
1	أ	السودان – مصر	1	1/2 لكل إجابة
	ب	السعودية	1/2	
	ج	جيبوتي	1/2	
	د	البحرين	1/2	
	هـ	اليمن / سلطنة عمان	1	1/2 لكل إجابة
2	و	الاحمر من الغرب – الخليج العربي من الشرق – بحر العرب أو المحيط الهندي من الجنوب	1 1/2	1/4 للمسطح 1/4 للجهة
		رسم بياني عمودي 1/2 / حصة القطاعات الاقتصادية من التسليفات المصرفية 1/4	3/4	
3	أ	التجارة والخدمات	1/2	
	ب	مزدهر – ناشط – قوي – مهيمن ...	1/2	
	ج	ضعف التسليفات المصرفية – نقص في الرساميل	1/2	
4	أ	رسم بياني مناخي 1/2 / ملم 1/4 / درجة مئوية 1/4	1	
	ب	كانون الأول - 180 ملم	1/2	
	ج	28 – 11 = 17 (1/2) درجة مئوية (1/4) تقريبا	3/4	
	د	من شهر أيار إلى شهر تشرين الأول	1/2	
	هـ	المتوسطي	1/2	
5	أ	انجراف تربة – توسع عمراني – فقر المزارع ....	1/2	من المستند (فكرتين )
	ب	التحريج – ادخال التقنيات ....	1/2	
6		تلبية احتياجات المدن من المزروعات – تخفيف النزوح ..	1/2	
7		أي خطوتين مناسبتين	1	1/2 علامة لكل خطوة
8	أ	طبيعية: مناخ معتدل- الموقع – قرب الجبال من الشواطئ – تنوع المواضيع الطبيعية الجميلة الخلابة بشرية: الإرث الحضاري- الوعي والكرم- التراث والمهرجانات- الكازينوهات- المطاعم- الفنادق.	2	لكل مقوم واضح 1/2 علامة (المطلوب 4 مقومات متنوعة)
	ب	ترفيهية – ثقافية – استطلاعية – رياضية .	1	لكل اجابة 1/2 علامة
	ج	أي دورين (الكتاب ص 88)	1	لكل اجابة 1/2 علامة
	د	الاعتداءات الاسرائيلية، مشكلة البنى التحتية	1	لكل اجابة 1/2 علامة
	هـ	تنشط القطاع الزراعي لتلبية الحاجات الغذائية (مطاعم، ... - تنشط القطاع الصناعي لتلبية حاجات المرافق المتنوعة (أثاث...مفروشات..)	1	فكرتين لكل فكرة 1/2 علامة
شكل المسابقة : (تماسك النص، مصطلحات ومفاهيم، ترتيب المسابقة وإمكانية قراءتها). علامة واحدة				

