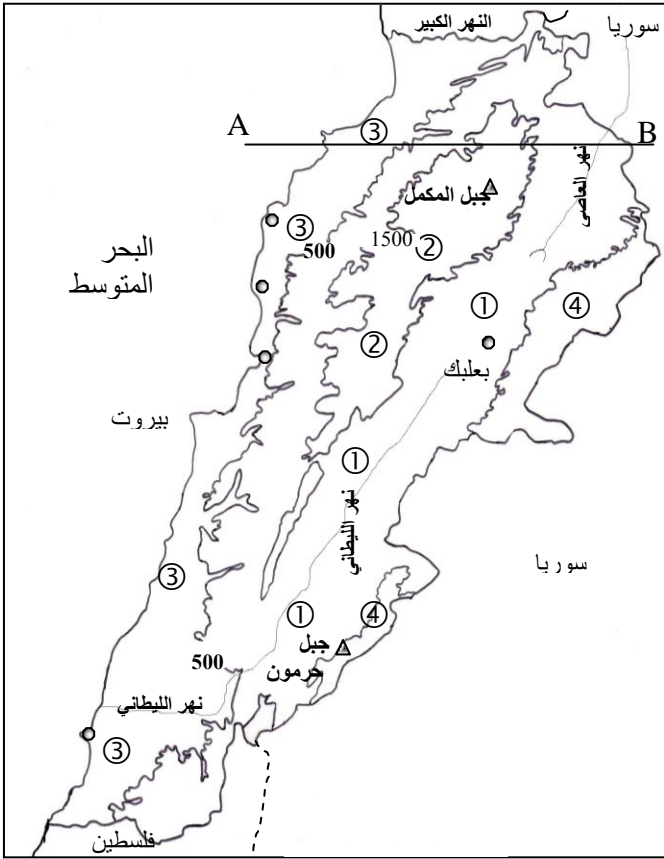


باسمه تعالى
الصف التاسع
مسابقة في الجغرافيا

المجال الأول: تحديد مواقع و اتجاهات (5علامات)



1- أكتب على ورقة الإجابة:

أ. أسماء الوحدات الطبيعية المشار إليها بالأرقام :

(1) ④ ③ ② ①

ب. أسماء المدن الساحلية المشار إليها بالرمز ●

(1) وذلك بالتدرج من الجنوب نحو الشمال.

ج. أسماء الاقاليم المناخية التي يمر بها المقطع

(3/4) A B من الغرب نحو الشرق

د. حدّد الاتجاه العام لمجرى نهر العاصي . (1/2)

هـ. حدّد موقع لبنان بالنسبة إلى كل من :

(1) سوريا و فلسطين.

و. حدّد موقع : جبل حرمون بالنسبة لمدينة بيروت (1/2)

ز. حدّد مكان زراعة الحمضيات بحسب الأرقام:

(1/4) ④ ③ ② ①

المستند رقم 1 : الخارطة الطبيعية للبنان

المجال الثاني : قراءة مستندات (8 علامات)

2- حدّد طبيعة المستند رقم 2 وموضوعه. (3/4)

3- بالرجوع إلى المستند رقم 2 ومعلوماتك:

أ. أذكر وحدة القياس المعتمدة في المحور العمودي.

(1/4)

ب. ماهو المتغيّر على المحور العمودي؟

(1/2)

وعلى المحور الأفقي؟

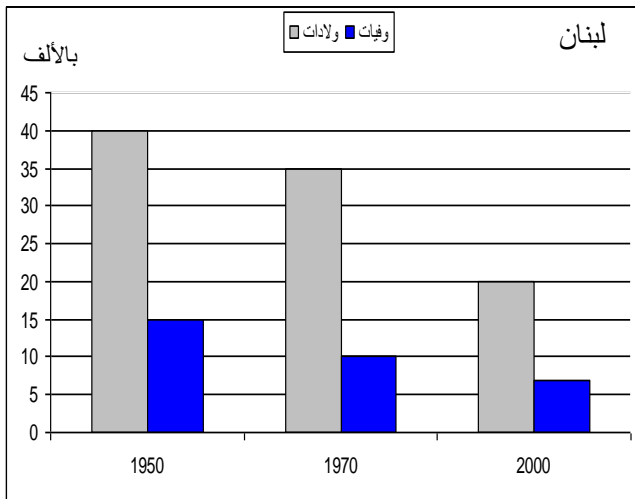
ج. كيف هو مسار التغيّر في معدل الولادات؟

(1 1/2)

وفي معدل الوفيات؟ أذكر سبباً لكل تغيّر.

د. قارن بين معدّل النمو الطبيعي للسكان في لبنان

عام 1950 و عام 2000 مبرراً إجابتك. (1)



المستند رقم 2

بيّنت الدراسات العلمية ان تحويلات المهاجرين اللبنانيين إلى عائلاتهم في الوطن، تلعب دوراً مهماً في خفض معدلات الفقر وزيادة معدلات التعليم، وتُسهم بشكل أساسي في تحسين ميزان المدفوعات، وفي تعزيز النمو الاقتصادي. كما يستفيد لبنان من العائدات الناتجة عن زيارات المغتربين للبنان، إلى جانب ما تُسهم به العمالة الماهرة التي تعود الى الوطن في نقل وتوطين التقنية الحديثة (التكنولوجيا).

في المقابل، للهجرة سلبات عديدة: الأولى والأهم هي النزف الكبير والمستمر لأعلى الموارد الوطنية والاساسية للاقتصاد الحديث. كما أنّ القسم الأكبر مما يحوِّله المغترب إلى أهله يذهب لأغراض الإنفاق الإستهلاكي، وليس للإستثمار الإنتاجي.

ولمعالجة سلبات الهجرة، يجب التركيز على محورين اساسيين: الأول: هو العمل على وقف نزيف الهجرة وتشجيع عودة العمالة الماهرة والمتخصّصة، من خلال توفير شروط مقومات النمو الاقتصادي المستدام. اما المحور الثاني فهو العمل على توسيع دائرة الاستفادة من طاقات المهاجرين الحاليين.

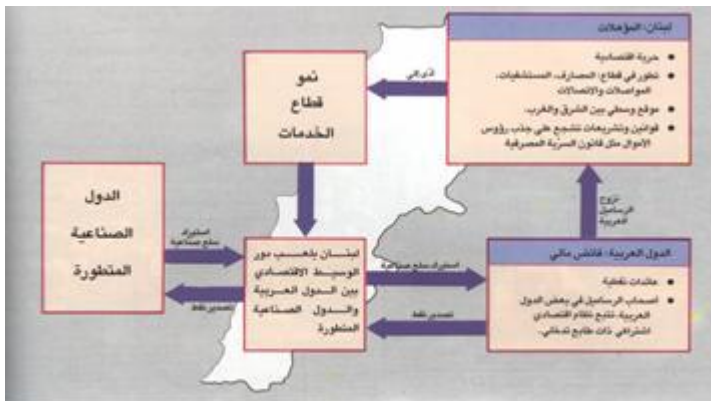
- 4- حدد طبيعة المستند رقم 3 ومصدره واقترح له عنواناً مناسباً. (1)
- 5- من خلال المستند رقم 3 بيّن:
- أ – سلبات الهجرة اللبنانية. (1/2)
- ب – الخطوات الواجب اعتمادها للتخفيف من سلبات الهجرة. (1/2)
- ج – الفوائد التي تتحقق للبنان من مهاجريه. (1)
- 6- تعتبر الهجرة واحدة من الحركات السكانية. اذكر اسم حركة سكانية ثانية، وبيّن سبباً من أسبابها. (1)

المجال الثالث: كتابة نص (6علامات)

المستند رقم (3)

7- بالاعتماد على المستند المرفق وعلى معلوماتك، اكتب نصاً جغرافياً (بحدود 12 – 15 سطرًا)، حول موقع لبنان الجغرافي، بتبيّن فيه:

- أ. الموقع الجغرافي للبنان. (2)
- ب. أهمية موقع لبنان الجغرافي إقليمياً ودولياً. (2)
- ج. أثر الموقع على توجه لبنان نحو القطاع الثالث (التجارة والخدمات). (2)



ملاحظة: علامة على تماسك النص والخط والترتيب

المستند رقم 4

أسس التصحيح - مادة الجغرافيا - الصف التاسع -

الرقم	عناصر الإجابة	العلامة	ملاحظات
أ.	أسماء الوحدات: 1 - السهول الداخلية 2 - السلسلة الغربية 3 - السهل الساحلي 4 - السلسلة الشرقية.	1	¼ لكل إجابة
ب.	صور ، جونبة ، جبيل ، البترون	1	¼ علامة لكل إجابة شرط الترتيب
ج.	المناخ المتوسطي الساحلي، المتوسطي الجبلي، المتوسطي الداخلي.	¾	¼ لكل إجابة
د.	يتجه من الجنوب الغربي نحو الشمال الشرقي	½	
هـ.	يقع لبنان جنوب غرب سوريا، وشمال فلسطين	1	½ لكل إجابة
و.	يقع جبل حرمون جنوب شرق بيروت.	½	
ز.	تزرع الحمضيات في المنطقة 3 (الساحلية)	¼	
2	طبيعة المستند 2 : رسم بياني بالأعمدة. الموضوع : تطور معدلي الولادات والوفيات في لبنان بين 1950 و 2000.	¾	¼ للنوع ½ للموضوع
3- أ	وحدة القياس : النسبة بالألف.	¼	
3- ب	المتغير على المحور العامودي : معدل الولادات ومعدل الوفيات. المتغير على المحور الأفقي : السنوات.	½	¼ ½
3- ج	- مسار التغير في معدل الولادات تنازلي لأن معدل الولادات إنخفض. أسباب التغير : تطور الوعي الإجتماعي ودخول المرأة ميدان العمل. - مسار التغير في معدل الوفيات تنازلي لأن معدل الوفيات إنخفض أسباب التغير للوفيات : تحسن مستوى الخدمات الصحية - تحسن المستوى المعيشي.	1½	½ للمسار- ¼ للسبب
3- د	إنخفض معدّل النمو الطبيعي من 25 بالألف (20 - 15) عام 1950 إلى حوالي 13 بالألف عام 2000 (20 - 7) بسبب انخفاض معدل الولادات والوفيات	1	½ للمقارنة و ½ للتبرير
4	طبيعة المستند: مقالة (نص) - مصدره: خليل زهر / جريدة الحياة / الاثنين 30 كانون الثاني 2006 (بتصرف) - الهجرة اللبنانية فوائد وسلبيات (او اي عنوان مناسب)	1	¼ ¼ ½
5	أ - سلبيات الهجرة : - النزف الكبير لاغلى الموارد البشرية - القسم الاكبر مما يحوله المغترب يذهب لاغراض الانفاق وليس للاستثمار. ب - الخطوات : - وقف نزيف الهجرة - تشجيع عودة العمالة الماهرة والمتخصصة - توسيع دائرة الاستفادة من طاقات المهاجرين . ج - الفوائد : خفض معدلات الفقر - زيادة معدلات التعليم - تحسين ميزان المدفوعات - تعزيز النمو الاقتصادي - تحويلات المهاجرين الى ذويهم -	½	¼ لكل سلبية (سلبيتان)
		½	¼ لكل خطوة (خطوتان)
		1	¼ لكل فائدة (4 فوائد)
6	حركة يومية - حركة فصلية - النزوح	1	½ للحركة ½ للسبب الصحيح
7	الموقع الجغرافي : - في المنطقة المعتدلة الشمالية - يتوسط قارات العالم القديم - في الطرف الغربي لقارة اسيا - وسط الساحل الشرقي للمتوسط اهمية الموقع اقليمي ودوليا : - نافذة الدول العربية الاسيوية على المتوسط والعالم - مركز مهم للترانزيت واعداد التصدير - جسر تواصل بين الشرق والغرب - موقع مهم في حوار الحضارات - عقدة مواصلات مهمة (بحرية وبرية وجوية)	2	المطلوب 4 افكار لكل فكرة صحيحة نصف علامة
		2	المطلوب 4 افكار لكل فكرة صحيحة نصف علامة شرط التنوع بين اقليمية ودولية

علامة لكل أثر	2	<p>أثر الموقع</p> <ul style="list-style-type: none"> - الوسيط الاقتصادي بين الدول العربية والدول الصناعية. - اعتدال مناخه مقارنة بالدول المجاورة العربية جعله مركز اصطياف. - قرب لبنان من مراكز الحضارات القديمة، والأماكن المقدسة. - 	
---------------	---	---	--

- شكل المسابقة: استعمال مصطلحات – تماسك النص – إمكانية القراءة – ترتيب المسابقة (علامة)

ملاحظات:

- حسم علامة واحدة من علامة الموضوع في حال تجاوز 18 سطراً.
- حسم علامة واحدة من علامة الموضوع في حال عدم استعمال معلومات من المستند المرفق.