

باسمه تعالى
الصف التاسع
مسابقة في الجغرافيا

المجال الأول: تحديد مواقع و اتجاهات (5علامات)

1 - أكتب على ورقة الإجابة:

أ - أسماء المناطق الزراعية المشار إليها بالأرقام :

① ② ③ (3/4 علامة)

ب - أسماء المدن الساحلية المشار إليها بالرمز ●

وذلك بالتدرج من الشمال نحو الجنوب. (1¼ علامة)

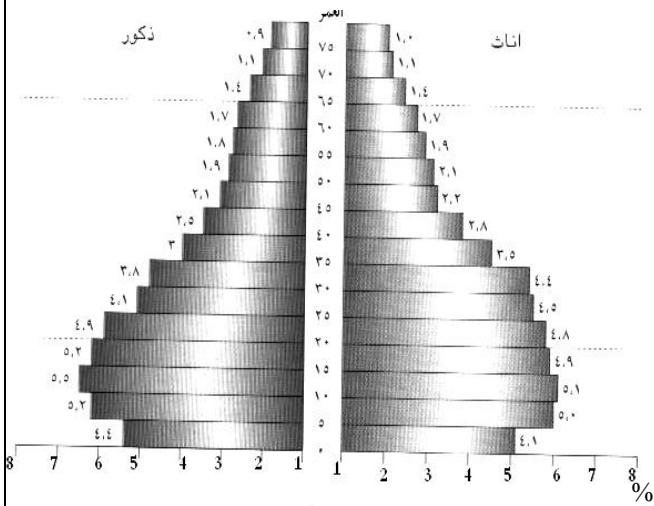
ج - حدد الاتجاه العام لمجرى نهر العاصي،

واذكر اسم الدولة التي يتجه إليها (علامة)

د - حدّد موقع لبنان بالنسبة إلى كل من :

سوريا و البحر الأبيض المتوسط. (علامة)

هـ - حدّد مكان زراعة (الحمضيات - الشمندر السكري) بحسب الأرقام ① ② ③ ④ (علامة)



مستند 2 هرم الأعمار لسكان لبنان عام 1996

المجال الثاني : قراءة مستندات (8 علامات)

2- بالرجوع إلى المستند (2) أجب عن الأسئلة التالية:

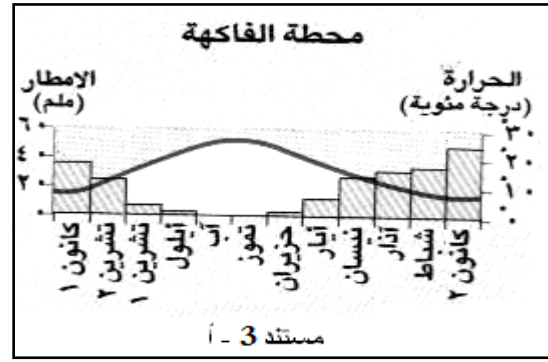
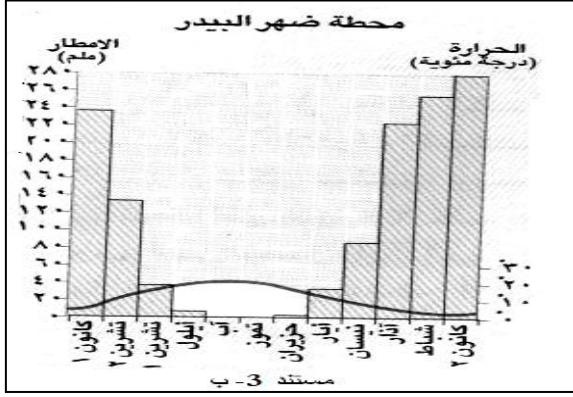
أ . حدّد طبيعة المستند وموضوعه. (1/2 علامة)

ب . حدّد وحدة القياس المستعملة في الخط العمودي والخط

الافقي. (1/2 علامة)

ج بيّن مميزات المستند من حيث القاعدة و القمة. (علامة)

3- أوضح سببين لانخفاض نسبة الولادات في لبنان. (علامة)



بالرجوع إلى المستندين 3 (أ - ب) أجب عن هذه الأسئلة :

- أ. حدّد طبيعة المستند 3-أ وموضوعه. (علامة)
- ب. قارن بين المستندين من حيث كمية الأمطار المتساقطة. (علامة)
- ج. أوضح أسباب الفروقات المتعلقة بالموقع والتضاريس. (علامة)

الموز أيضاً ملون

رش الثمار بمواد محظورة لتسريع نضجها وطرحها في السوق : بعد إعلان دراسة وزارة البيئة أن كل الفاكهة والخضر في السوق اللبنانية ملوثة... ها هم تجار الموز يعلنون عن تجاوزات تطراً على هذه الثمرة، لتلويها وطرحها في السوق قبل أوانها ! إذ اشتكى عدد من تجار سوق الجملة لبيع الخضر والفاكهة في صور ومنطقتها من رش بعض المزارعين بساتين الموز بمواد محظورة، بهدف الإسراع في إنضاج ثمرها للحصول على أسعار مرتفعة في السوق، وأشاروا إلى أن مزارعي الموز يستخدمون مادة اللانيت، وصبغات كيميائية ملونة تسرع في إعطاء ثمرة الموز اللون الخارجي الأصفر، في ما هي في الداخل غير ناضجة بلب أسود. وأكدوا أن هذه المواد المستخدمة ضارة صحياً ولا تُستخدم في أي بلد في العالم إلا في لبنان، ودعوا المزارعين إلى الكف عن استخدام هذه المواد، مطالبين الدولة بمنع استيرادها، ومراقبة المنتجات الزراعية، وخصوصاً الموز، لطمأنة المستهلكين. إلا أن نائب رئيس الاتحاد العمالي العام دعا في بيان له أمس إلى توخي الدقة في إثارة أي موضوع عن الزراعة "حتى لا نسيئ إلى المزارع اللبناني، وعلق على إثارة موضوع المواد السامة والكيميائية في المزروعات اللبنانية وقال إنه لا يكفي إعلان أرقام لعينات، من دون معرفة من أين أخذت أو من أين مصدرها.

جريدة الاخبار في 10 / 11 / 2009

مستند 4

5- بالرجوع إلى المستند 4 أجب عن هذه الأسئلة :

- أ. حدّد المشكلة التي يطرحها التجار في صور. (علامة)
- ب. حدّد السبب تدخل رئيس الاتحاد العمالي في هذا الموضوع، وحدّد المتابعة التي أوصى بها. (علامة)
- ج. حدّد الحل الذي اقترحه التجار لهذه المشكلة، وبين دور الدولة في هذا الحل. (علامة)

المجال الثالث: كتابة نص (6علامات)

6- انطلاقاً من معلوماتك المكتسبة، أكتب نصاً من 12 سطراً عن مناخ لبنان مبيناً فيه:

- أ. الموقع الجغرافي للبنان وأهميته بالنسبة للاقتصاد. (علامتان)
- ب. أثر الموقع والتضاريس على تنوع الأقاليم المناخية في لبنان. (علامتان)
- ج. أثر العوامل المناخية على توزيع السكان. (علامة)
- د. أثر العوامل المناخية على تنوع المزروعات. (علامة)
- ملاحظة: علامة على تماسك النص والخط والترتيب.

العلامة	أسس التصحيح	جزء السؤال
	المجال الاول (5)	
3/4	المنطقة الداخلية - المنطقة الجبلية - المنطقة الساحلية	1-أ
1 1/4	البترون - جبيل - جونبة - صيدا - صور (شروط التدرج من الشمال إلى الجنوب). 1/4 علامة لكل إجابة صحيحة	1-ب
1	شمال شرق - سوريا علامة واحدة، 1/2 علامة للمسار، 1/2 علامة للدولة	1-ج
1	جنوب غرب - شرق	1-د
1	الحمضيات 3 - الشمندر السكري 1 1/2 علامة لكل اجابة	1-هـ
	المجال الثاني (8)	
1/2	رسم بياني هرمي (هرم سكاني) - هرم أعمار سكان لبنان عام 1996 1/4 علامة لكل إجابة صحيحة	2-أ
1/2	الخط العمودي السنة - الخط الأفقي النسبة المئوية	2-ب
1	قاعدة ضيقة - قمة متسعة	2-ج
1	دخول المرأة عالم العمل- تطور المفاهيم الاجتماعية- تحسن الدخل الفردي (يكفي إجابتين)	3
1	رسم بياني مناخي- الحرارة والأمطار لمحطة الفاكحة	4-أ
1/2	في المستند 3-أ أعلى كمية أمطار 50 ملم، أما في الثاني فتصل إلى 280ملم.	4-ب
1	تتعرض المنطقة 3-ب للأمطار الغزيرة بسبب موقعها على السلسلة الغربية الوسطى أما الثانية فتقع في ظل المطر في المنطقة الداخلية الشمالية.	4-ج
1/2	رش الموز بمواد سامة لإظهاره ناصحاً.	5-أ
1	أن يكف المزارعين عن استخدام هذه المواد (1/2 علامة)، أما دور الدولة فممنع استيرادها (1/4) ومراقبة المنتجات الزراعية (1/4)	5-ب
1	حتى لا يتم الاساءة إلى المزارعين (1/2)، وإلى ضرورة معرفة من اين أخذت المواد وما هو مصدرها (1/2).	5-ج
	المجال الثالث (6)	
2	جنوب غرب قارة آسيا /على الساحل الشرقي للبحر المتوسط / وسط قارات العالم القديم /صلة وصل بين الدول العربية الآسيوية الإفريقية / النصف الشمالي المعتدل/ الموقع أكسبه أهمية تجارية وجذب الاستثمارات العربية إليه	7
2	مناخ متوسطي معتدل بسبب موقعه ترتفع السلسلة الغربية من الشمال فتمنع وصول الامطار إلى الداخل و تنخفض من الجنوب فتسمح بوصول الأمطار إلى جبل حرمون لذا تتنوع المناخات مناخ متوسطي ساحلي /مناخ متوسطي جبلي رطب / مناخ متوسطي شبه قاري / مناخ متوسطي قاري جاف	
1	ترتفع الكثافة على الساحل المعتدل و تنخفض في الداخل شبه القاري	
1	تزرع الحمضيات على الساحل و التفاح في المناطق الجبلية	
	- 1/2 علامة تماسك النص.- 1/2 علامة مصطلحات ومفاهيم. - 1/2 علامة ترتيب المسابقة.- 1/2 علامة إمكانية قراءة المسابقة.	- الشكل
	- إذا لم يتم استخدام المستندات تُحسم علامة. - إذا تجاوز عدد أسطر النص 17 سطرراً تُحسم علامة.	ملاحظة: